

حكومة اقليم كردستان – العراق
وزارة التربية
المديرية العامة للمناهج والطبوعات

الأجتماعيات

للف الرابع الأساس

اعداد
لجنة في وزارة التربية

الطبعة الحادي عشر ٢٠١٥م ٢٧١٥ كوردية ١٤٣٦ هجرية

التنقيح والمراجعة والاشراف العلمي على الطبع: ويسى صالح حمد أمين - عبيد خضر فتح الله
الترجمة الى العربية: عبدالله بابان
الاشراف على الطبع: عثمان بيرداود كواز- خالد سليم محمود
التصميم والغلاف: امانج اسماعيل عبدي
التنضيد الالكتروني: فيصل عبدالعظيم

مبادئ الجغرافية

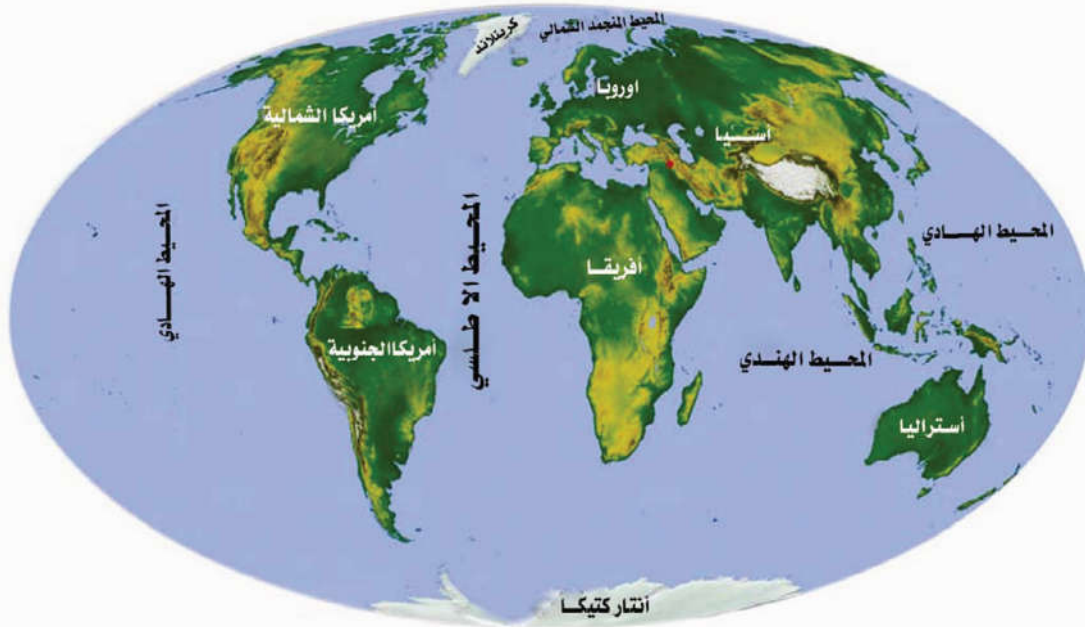
الجزء الأول

الأرض



الجغرافية

علم يبحث في الظواهر الطبيعية على سطح الارض، مثل: (التضاريس (المرتفعات والمنخفضات)، البحار والمحيطات، والنشاطات البشرية مثل الزراعة، الصناعة، التجارة والنقل.. الخ).



الخارطة رقم (1) سطح الارض الطبيعي

معلومة:

تتكون الكرة الأرضية من الماء واليابسة، المساحة التي تغطيها المياه أكبر من المساحة التي تغطيها اليابسة.

الجزء اليابس من الكرة الأرضية يتكون من عدة قارات (آسيا ، أوربا ، أفريقيا ، أمريكا الشمالية، أمريكا الجنوبية، أنتاركتيكا "القطب الجنوبي").

الجزء المائي يشمل الجزء الكبير منه المحيطات مثل:

(الميط الهادي، المحيط الاطلسي، المحيط الهندي، المحيط المتجمد الشمالي).

الاتجاهات



عبارة عن اربعة اتجاهات رئيسية، هي: (الشمال، الجنوب، الشرق، الغرب) مع اواسطها: (شمال شرق، جنوب شرق، شمال غرب، جنوب غرب).



نشاط:

هل تستطيع ان تحدد بلدك على الخارطة رقم (١)

معلومة:

اقليم كوردستان بلدنا ، ويقع في الجزء الشمالي والشمالي الشرقي للعراق.

سطح الارض

التضاريس:

الجبال

عبارة عن كتل كبيرة من الأراضي، اعلى مما يحيط بها، وسفوحها مائلة، ولها قمة او اكثر. تظهر على شكل سلاسل الجبلية و (جبال منفردة تكونت بفعل البراكين).



صورة سلسلة جبلية



صورة جبل

ايها المعلم الفاضل:

(حاول ان توضح الصورتين للتلاميذ، من خلال امثلة توضيحية).

الهضاب

مساحة مرتفعة من الارض، ليس لها قمة ومسطحة من الاعلى، مثل: هضبة باني مقان في
جمجمال وهضبة تارين و سهريهن في أربيل ، وهضبة كركوك، وهضبة الموصل... الخ



التلال

ظاهراً تبدو كالجبال، لكنها ليست مرتفعة جداً، وسفوحها مائلة كالجبال، مثل سلسلة تلال
هميرين، التي تفصل إقليم كردستان عن وسط وجنوب العراق.



صورة تلال

السهول

منطقة منبسطة وواسعة، مرتفعاتها قليلة، مثل: سهل اربيل، سهل شارزور، سهل بتوين، سهل سندي، وسهل حميرين).



صورة سهل

نشاط:

ايها التلميذ العزيز: حاول ان تذكر اسماء سهول اخرى.



نشاط:

اذكر اسماء مجموعة من الجبال قريبة من منطقة سكنك.

معلومة:

السهل ارض خصبة تصلح للزراعة وتربية المواشي والسكن، واكثر المحاصيل الزراعية، تنتج في السهول.

الوادي

منطقة منخفضة تقع بين مرتفعين أو تقع بين جبلين.



مشهد لوادي



مشهد لقريية في وادي

الصحراء

منطقة جافة تصعب فيها الحياة على الانسان والكائنات الاخرى تغطيها الكثبان الرملية.



صورة صحراء تظهر فيها التلال الرملية

نشاط:

هل تستطيع ذكر اسم صحراء في كوردستان؟ واذا لم توجد في كوردستان، فاذكر اسم صحراء في العراق.

معلومة:

ان حياة الصحراويين غير مستقرة، ويرتحلون دوماً بحثاً عن الماء والكلأ، لتربية مواشيهم، وغالباً ما يربون الجمال والاغنام والماعز.

ايها المعلم الفاضل:

حاول ان توضح بدقة للتلاميذ-من خلال هذا الموضوع- طبيعة هذه المنطقة ودرجات الحرارة ونسب الامطار فيها.

النبات الطبيعي

يقصد بالنبات الطبيعي جميع الاعشاب والاشجار التي تنمو دون تدخل الانسان في زراعتها، وللمناخ ونوعية التربة و التضاريس تاثير فعال على نموها.



صورة غابة استوائية



غابة صنوبرية



غابة في كردستان

نشاط:

من مشاهدتك للصور الثلاث للنبات الطبيعي، اي فرق تلاحظ بينها؟

ايها المعلم الفاضل:

وضح للتلاميذ تاثير التربة والمناخ على نمو النبات الطبيعي.

تدريب:

اذكر اسماء عدد من النباتات الطبيعية، وخاصة التي يستفيد منها سكان كردستان في فصل الربيع كمصدر غذائي.

اهمية النبات الطبيعي

- ١- يحافظ على البيئة من التلوث.
- ٢- يزيد من المساحة الخضراء .
- ٣- يخفض درجة الحرارة في الصيف.
- ٤- يحمي التربة من التعرية.
- ٥- يوفر الظل وأماكن لراحة السياح.
- ٦- يستفاد منه اقتصادياً.
- ٧- يستخرج من جذوره وبذوره ووروده وأوراقه الأدوية.
- ٨- يعطي للبيئة جمالية اضافية.



منظر طبيعي للنبات الطبيعي في كردستان


نشاط:

هل يوجد النبات الطبيعي في كل منطقة بشكل متساوٍ؟

ايها المعلم الفاضل:

ساعد التلاميذ على معرفة اسباب اختلاف النباتات الطبيعية.

الجزء الثاني



مصادر المياه

الماء مصدر الحياة، للإنسان والنبات والكائنات الأخرى، على حد سواء.



للماء مصدران رئيسيان: **المياه السطحية** و**المياه الجوفية**.

المياه السطحية: مصدرها الأمطار والثلوج المتساقطة، والتي تجري في جداول، وتشكل المياه السطحية.

مثل: الجداول والأنهار والبحيرات والمستنقعات.

المطر

بسبب حرارة اشعة الشمس تتبخر مياه البحار والمحيطات، وتقوم الرياح بنقل البخار الى اليابسة، لان كتله خفيفة، وعندما يرتفع اكثر يزداد كثافة وكتلة تدريجياً فتساقط قطراته على الارض (فتسمى بالمطر).

الثلج

يتكون الثلج كالمطر عندما يحدث تكاثف بخار الماء في هواء تكون درجة حرارته تحت الصفر، ويتساقط الثلج عندما تكون قطراته اثقل من وزن الهواء الحامل لها.

نشاط:

ما تتكون المياه السطحية؟

معلومة:

ان تساقط الامطار يختلف من منطقة الى اخرى في العالم، فهناك مناطق تتساقط فيها الامطار على مدار السنة، وهناك مناطق تتساقط فيها الامطار في الصيف فقط، وفي كوردستان تتساقط الامطار في فصول: الشتاء والربيع والخريف.



صورة نهر



صورة نبع



مستنقع (بحيرة)



صورة سد دوكان

معلومة:

هناك عدة سدود لآخزن المياه لاستخدامها في موسم الجفاف (الصيف)، وهي تقلل من اخطار الفيضانات، كما تنتج الطاقة الكهربائية، كسدي دوكان ودرنديخان.

السد:

عبارة عن خزان كبير للمياه، تقوم الدولة بانشائه، لآخزن مياه الامطار والثلوج .

تدريب: فوائد السدود هي:

- ١ - _____
- ٢ - _____
- ٣ - _____
- ٤ - _____

نماذج من الظواهر المائية

الفيضان

نتيجة الامطار الكثيرة يرتفع منسوب المياه فتغطي الاراضي المحيطة بالانهار و المجاري، وتخلق خوف لدى السكان في تلك المنطقة.

معلومة:

تسبب الامطار الغزيرة في المناطق الاستوائية في الحاق اضرار كبيرة بسكان تلك المناطق.



صورة فيضان

نشاط:

حاول ان تذكر اضرار الفيضانات.

الشلال

في البقعة التي ينزل فيها ماء النهر من منحدر مرتفع، فان هذا ما يسمى بالشلال.



صورة شلال

ايها الطالب العزيز: هل يمكن ان تذكر اسماء بعض الشلالات؟

تدريب:

ماسيب تعرض شلال گلی علي بگ للجفاف احياناً؟



شلال گلی علی بگ

المياه الجوفية

بعد تساقط الامطار وذوبان الثلوج فان جزءاً من هذه المياه ينزل الى الطبقات السفلى من الارض ويتجمع فيها، فيشكل المياه الجوفية، ثم تنبع من اماكن رخوة على شكل ينابيع. للمياه الجوفية فائدة كبيرة للانسان، فهو يستخدمها للشرب والاستعمالات اليومية والري والسقي.



بيخال

معلومة:

هناك ينابيع ومصادر مياه كثيرة في كردستان، وهي من اسباب كثرة المصايف التي تجذب السياح، وتعد مصدراً لدخل المواطنين في تلك المناطق، مثل : مصايف احمدآوه، بيخال، وسولاف ... الخ.



نشاط:

لماذا يقصد السياح مصايف كردستان في فصل الصيف؟



الجزء الثالث

فصول السنة

السنة اربعة فصول هي: (الشتاء، الربيع، الصيف، والخريف) تتساقط الامطار والثلوج في فصل الشتاء وتنخفض درجات الحرارة.



فصل الشتاء

عند تساقط الثلوج يلعب الاطفال في المدن بكرات الثلج.

تدريب:

في اي شهر تزداد نسبة تساقط الثلوج؟

أ - كانون الثاني ب - شباط ج - آذار د - كانون الاول

تزداد مناسيب المياه السطحية والجوفية نتيجة لتساقط الامطار وذوبان الثلوج.

الربيع

يكون الجو في هذا الفصل معتدلاً وتنمو الحشائش، وتلبس الارض حلة خضراء، ويخرج الناس من المدن للتنزه.



صورة التقطت في فصل الربيع

عيد نوروز

عيد قومي قديم للكردي، تحل معه تباشير قدوم فصل الربيع، فقم صبيحة الحادي والعشرين من



آذار يحتفل ابناء المدن والقرى بهذه المناسبة حتى المساء، ويستنشقون اريج الورود والنجس.



نشاط:

اين وكيف قضيت يوم نوروز؟ وماذا شعرت؟

تدريب:

اكمل الجمل التالية بهذه الكلمات: بارداً، الامطار والثلوج، معتدلاً، الخفيفة.

- ١ - يكون الجو في فصل الشتاء _____ و تسقط _____ بكثرة.
- ٢ - في فصل الربيع يكون الجو _____ ويرتدي الناس الملابس _____ .



صورة للفصول الاربعة

الصيف

يكون الجو حاراً في هذا الفصل، وينتهي موسم الامطار، وللتخلص من حر الصيف يتوجه الناس الى المصايف، او يستخدمون اجهزة التكييف في منازلهم.

الخريف

يكون الجو معتدلاً ويميل الى البرودة، وتنضج الفواكه.



صورة التقطت في فصل الخريف

معلومة:

يتألف المناخ من المكونات التالية: (درجة الحرارة، الرياح، الرطوبة والتساقط ، والضغط الجوي).

الجزء الرابع

السكان

لنتعرف على كيفية اسكان المواطنين، من الضروري معرفة اشكال الحياة في الريف والحضر والرحل.



مشهد لمدينة كركوك



شقلاوه

المدينة

فيها عدد من البيوت والمؤسسات، مثل: (المدارس، الجامعات، الابنية الحكومية، دور العبادة، والطرق والجسور) وعدد سكانها كبير، يعملون في العديد من المهن.



مدينة اربيل



مدينة السليمانية



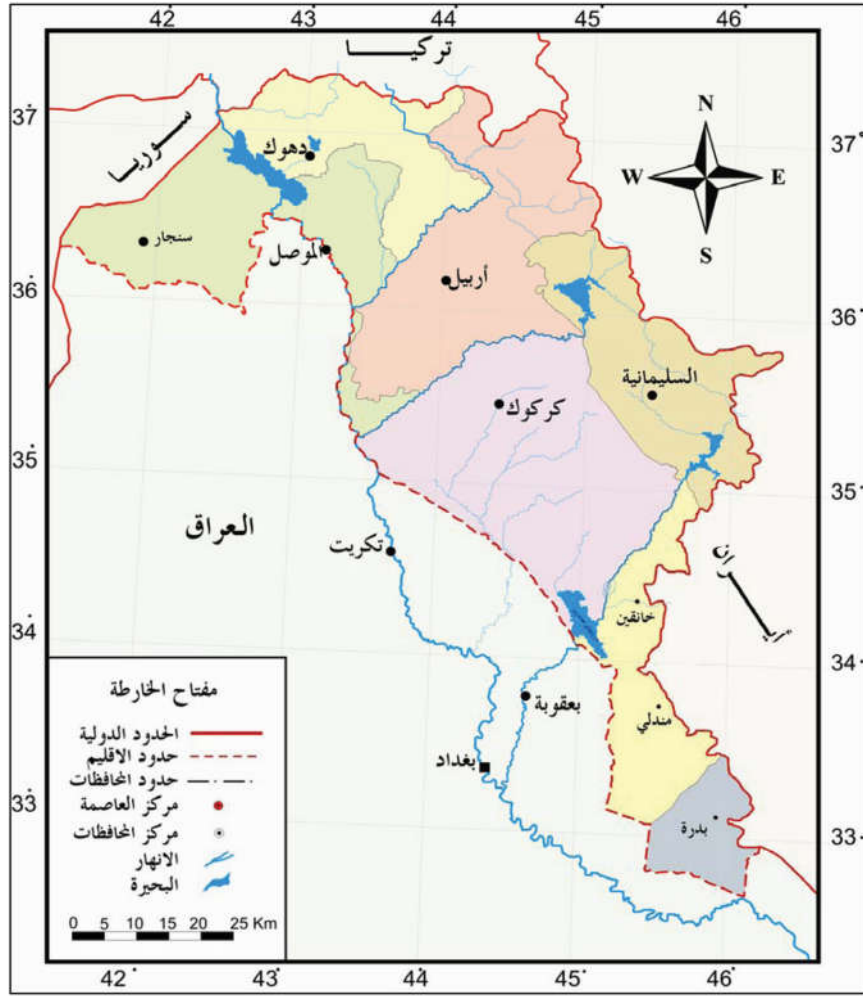
مدينة دهوك

نشاط:

اكتب اسم مدينتك وضع في كتابك صورة جميلة لها.

معلومة:

يقع اقليم كردستان العراق في شمال وشمال شرق العراق، غالبية سكانه من الكورد وتعيش معهم قوميات اخرى هم: العرب، التركمان، والكلدو آشوريون.
من مدنه الكبرى: كركوك، اربيل، السليمانية، ودهوك. وفيه مدن صغيرة وقصبات والكثير من القرى، يمتن سكانه العديد من المهن.



خارطة رقم (٢)

خارطة اقليم كوردستان - العراق (الادارية)

تدريب:

- ١ - اكتب اسماء المدن الكبيرة في اقليم كوردستان.
- ٢ - ما اسم المدينة التي قصفها النظام البعثي بالاسلح الكيماوي؟ والتي اصبحت رمزاً لنضال وتضحيات شعبنا الكوردي؟

القرية والريف

مساحات صغيرة فيها مجموعة من البيوت، يمتنن غالبية سكانها الزراعة وتربية المواشي.



صورة فلاح يحرث ارضه بشكل بدائي



الحصاد بواسطة الحاصدة

معلومة:

نتيجة للسياسات الوحشية للانظمة العراقية المتعاقبة، لحقت بقرى وارياف كوردستان اضرار جسيمة، فقد تم هدم وحرق اكثر من ٤٥٠٠ قرية، واقتيد مايقارب من ١٨٢٠٠٠ شخص من سكانها الى المعتقلات في الصحراء الواقعة غربي العراق وتمت تصفيتهم جسدياً هناك بوأدهم، تحت اسم عمليات الانفال سيئة الصيت. والتي تعد اكبر جريمة اقترفت بحق الكورد في التاريخ الحديث.

بعد انتفاضة شعبنا الكوردي في سنة ١٩٩١ تمت اعادة اعمار غالبية تلك القرى.

الرحل

نسبة الرحل اقل مقارنة بعدد سكان القرى، وهم يمتنون تربية المواشي ويقومون برحلة الشتاء والصيف بحثاً عن الماء والكلأ لمواشيهم، ويسكنون في الخيم المصنوعة من شعر الماعز. إلا أن اعدادهم في انخفاض نتيجة لأستقرارهم في المدن والقرى.



صورة لخيمة مصنوعة من شعر الماعز

نشاط:

خيم الرحل مصنوعة من شعر الماعز.

التأريخ

الجزء الاول



التقويم

ماهو التقويم؟

عبارة عن ملصق جداري واحياناً يكون عبارة عن ورقة صغيرة توضع على المنضدة، وفيها تحديد لايام واشهر السنة، ونستفيد منه عندما نريد معرفة تاريخ معين، والتقويمات المعتمدة في اقليم كردستان، هي: **التقويم الميلادي، التقويم الهجري، التقويم الكوردي.**

التقويم الميلادي : هو التقويم الذي يعتمده العالم بشكل واسع، وهو الاكثر شيوعاً في المؤسسات الحكومية الرسمية في اقليم كردستان، والحياة اليومية.

تدريب:

- ١ - على اي تقويم تعتمد يومياً في مدرستك؟
- ٢ - اي يوم من ايام الاسبوع هو عطلة رسمية؟

اشهر السنة الميلادية

3 March آذار	2 February شباط	1 January كانون الأول																																																																																																									
<table border="1"> <tr><td>6</td><td>5</td><td>4</td><td>3</td><td>2</td><td>1</td></tr> <tr><td>13</td><td>12</td><td>11</td><td>10</td><td>9</td><td>8</td><td>7</td></tr> <tr><td>20</td><td>19</td><td>18</td><td>17</td><td>16</td><td>15</td><td>14</td></tr> <tr><td>27</td><td>26</td><td>25</td><td>24</td><td>23</td><td>22</td><td>21</td></tr> <tr><td></td><td></td><td>31</td><td>30</td><td>29</td><td>28</td><td></td></tr> </table>	6	5	4	3	2	1	13	12	11	10	9	8	7	20	19	18	17	16	15	14	27	26	25	24	23	22	21			31	30	29	28		<table border="1"> <tr><td>6</td><td>5</td><td>4</td><td>3</td><td>2</td><td>1</td></tr> <tr><td>13</td><td>12</td><td>11</td><td>10</td><td>9</td><td>8</td><td>7</td></tr> <tr><td>20</td><td>19</td><td>18</td><td>17</td><td>16</td><td>15</td><td>14</td></tr> <tr><td>27</td><td>26</td><td>25</td><td>24</td><td>23</td><td>22</td><td>21</td></tr> <tr><td></td><td></td><td></td><td></td><td></td><td>28</td><td></td></tr> </table>	6	5	4	3	2	1	13	12	11	10	9	8	7	20	19	18	17	16	15	14	27	26	25	24	23	22	21						28		<table border="1"> <tr><td>2</td><td>1</td><td></td><td></td><td></td><td></td><td>31</td></tr> <tr><td>9</td><td>8</td><td>7</td><td>6</td><td>5</td><td>4</td><td>3</td></tr> <tr><td>16</td><td>15</td><td>14</td><td>13</td><td>12</td><td>11</td><td>10</td></tr> <tr><td>23</td><td>22</td><td>21</td><td>20</td><td>19</td><td>18</td><td>17</td></tr> <tr><td>30</td><td>29</td><td>28</td><td>27</td><td>26</td><td>25</td><td>24</td></tr> </table>	2	1					31	9	8	7	6	5	4	3	16	15	14	13	12	11	10	23	22	21	20	19	18	17	30	29	28	27	26	25	24		
6	5	4	3	2	1																																																																																																						
13	12	11	10	9	8	7																																																																																																					
20	19	18	17	16	15	14																																																																																																					
27	26	25	24	23	22	21																																																																																																					
		31	30	29	28																																																																																																						
6	5	4	3	2	1																																																																																																						
13	12	11	10	9	8	7																																																																																																					
20	19	18	17	16	15	14																																																																																																					
27	26	25	24	23	22	21																																																																																																					
					28																																																																																																						
2	1					31																																																																																																					
9	8	7	6	5	4	3																																																																																																					
16	15	14	13	12	11	10																																																																																																					
23	22	21	20	19	18	17																																																																																																					
30	29	28	27	26	25	24																																																																																																					
6 June حزيران	5 May ايار	4 April نيسان																																																																																																									
<table border="1"> <tr><td>5</td><td>4</td><td>3</td><td>2</td><td>1</td><td></td><td></td></tr> <tr><td>12</td><td>11</td><td>10</td><td>9</td><td>8</td><td>7</td><td>6</td></tr> <tr><td>19</td><td>18</td><td>17</td><td>16</td><td>15</td><td>14</td><td>13</td></tr> <tr><td>26</td><td>25</td><td>24</td><td>23</td><td>22</td><td>21</td><td>20</td></tr> <tr><td></td><td></td><td></td><td>30</td><td>29</td><td>28</td><td>27</td></tr> </table>	5	4	3	2	1			12	11	10	9	8	7	6	19	18	17	16	15	14	13	26	25	24	23	22	21	20				30	29	28	27	<table border="1"> <tr><td>1</td><td></td><td></td><td></td><td></td><td>31</td><td>30</td></tr> <tr><td>8</td><td>7</td><td>6</td><td>5</td><td>4</td><td>3</td><td>2</td></tr> <tr><td>15</td><td>14</td><td>13</td><td>12</td><td>11</td><td>10</td><td>9</td></tr> <tr><td>22</td><td>21</td><td>20</td><td>19</td><td>18</td><td>17</td><td>16</td></tr> <tr><td>29</td><td>28</td><td>27</td><td>26</td><td>25</td><td>24</td><td>23</td></tr> </table>	1					31	30	8	7	6	5	4	3	2	15	14	13	12	11	10	9	22	21	20	19	18	17	16	29	28	27	26	25	24	23	<table border="1"> <tr><td>3</td><td>2</td><td>1</td><td></td><td></td><td></td><td></td></tr> <tr><td>10</td><td>9</td><td>8</td><td>7</td><td>6</td><td>5</td><td>4</td></tr> <tr><td>17</td><td>16</td><td>15</td><td>14</td><td>13</td><td>12</td><td>11</td></tr> <tr><td>24</td><td>23</td><td>22</td><td>21</td><td>20</td><td>19</td><td>18</td></tr> <tr><td></td><td>30</td><td>29</td><td>28</td><td>27</td><td>26</td><td>25</td></tr> </table>	3	2	1					10	9	8	7	6	5	4	17	16	15	14	13	12	11	24	23	22	21	20	19	18		30	29	28	27	26	25
5	4	3	2	1																																																																																																							
12	11	10	9	8	7	6																																																																																																					
19	18	17	16	15	14	13																																																																																																					
26	25	24	23	22	21	20																																																																																																					
			30	29	28	27																																																																																																					
1					31	30																																																																																																					
8	7	6	5	4	3	2																																																																																																					
15	14	13	12	11	10	9																																																																																																					
22	21	20	19	18	17	16																																																																																																					
29	28	27	26	25	24	23																																																																																																					
3	2	1																																																																																																									
10	9	8	7	6	5	4																																																																																																					
17	16	15	14	13	12	11																																																																																																					
24	23	22	21	20	19	18																																																																																																					
	30	29	28	27	26	25																																																																																																					
9 September ايلول	8 August اب	7 July تموز																																																																																																									
<table border="1"> <tr><td>4</td><td>3</td><td>2</td><td>1</td><td></td><td></td><td></td></tr> <tr><td>11</td><td>10</td><td>9</td><td>8</td><td>7</td><td>6</td><td>5</td></tr> <tr><td>18</td><td>17</td><td>16</td><td>15</td><td>14</td><td>13</td><td>12</td></tr> <tr><td>25</td><td>24</td><td>23</td><td>22</td><td>21</td><td>20</td><td>19</td></tr> <tr><td></td><td></td><td>30</td><td>29</td><td>28</td><td>27</td><td>26</td></tr> </table>	4	3	2	1				11	10	9	8	7	6	5	18	17	16	15	14	13	12	25	24	23	22	21	20	19			30	29	28	27	26	<table border="1"> <tr><td>7</td><td>6</td><td>5</td><td>4</td><td>3</td><td>2</td><td>1</td></tr> <tr><td>14</td><td>13</td><td>12</td><td>11</td><td>10</td><td>9</td><td>8</td></tr> <tr><td>21</td><td>20</td><td>19</td><td>18</td><td>17</td><td>16</td><td>15</td></tr> <tr><td>28</td><td>27</td><td>26</td><td>25</td><td>24</td><td>23</td><td>22</td></tr> <tr><td></td><td></td><td></td><td></td><td>31</td><td>30</td><td>29</td></tr> </table>	7	6	5	4	3	2	1	14	13	12	11	10	9	8	21	20	19	18	17	16	15	28	27	26	25	24	23	22					31	30	29	<table border="1"> <tr><td>3</td><td>2</td><td>1</td><td></td><td></td><td></td><td></td></tr> <tr><td>10</td><td>9</td><td>8</td><td>7</td><td>6</td><td>5</td><td>4</td></tr> <tr><td>17</td><td>16</td><td>15</td><td>14</td><td>13</td><td>12</td><td>11</td></tr> <tr><td>24</td><td>23</td><td>22</td><td>21</td><td>20</td><td>19</td><td>18</td></tr> <tr><td>31</td><td>30</td><td>29</td><td>28</td><td>27</td><td>26</td><td>25</td></tr> </table>	3	2	1					10	9	8	7	6	5	4	17	16	15	14	13	12	11	24	23	22	21	20	19	18	31	30	29	28	27	26	25
4	3	2	1																																																																																																								
11	10	9	8	7	6	5																																																																																																					
18	17	16	15	14	13	12																																																																																																					
25	24	23	22	21	20	19																																																																																																					
		30	29	28	27	26																																																																																																					
7	6	5	4	3	2	1																																																																																																					
14	13	12	11	10	9	8																																																																																																					
21	20	19	18	17	16	15																																																																																																					
28	27	26	25	24	23	22																																																																																																					
				31	30	29																																																																																																					
3	2	1																																																																																																									
10	9	8	7	6	5	4																																																																																																					
17	16	15	14	13	12	11																																																																																																					
24	23	22	21	20	19	18																																																																																																					
31	30	29	28	27	26	25																																																																																																					
12 December كانون الأول	11 november تشرين الثاني	10 October تشرين الأول																																																																																																									
<table border="1"> <tr><td>4</td><td>3</td><td>2</td><td>1</td><td></td><td></td><td></td></tr> <tr><td>11</td><td>10</td><td>9</td><td>8</td><td>7</td><td>6</td><td>5</td></tr> <tr><td>18</td><td>17</td><td>16</td><td>15</td><td>14</td><td>13</td><td>12</td></tr> <tr><td>25</td><td>24</td><td>23</td><td>22</td><td>21</td><td>20</td><td>19</td></tr> <tr><td></td><td></td><td>31</td><td>30</td><td>29</td><td>28</td><td>27</td></tr> </table>	4	3	2	1				11	10	9	8	7	6	5	18	17	16	15	14	13	12	25	24	23	22	21	20	19			31	30	29	28	27	<table border="1"> <tr><td>6</td><td>5</td><td>4</td><td>3</td><td>2</td><td>1</td><td></td></tr> <tr><td>13</td><td>12</td><td>11</td><td>10</td><td>9</td><td>8</td><td>7</td></tr> <tr><td>20</td><td>19</td><td>18</td><td>17</td><td>16</td><td>15</td><td>14</td></tr> <tr><td>27</td><td>26</td><td>25</td><td>24</td><td>23</td><td>22</td><td>21</td></tr> <tr><td></td><td></td><td></td><td></td><td>30</td><td>29</td><td>28</td></tr> </table>	6	5	4	3	2	1		13	12	11	10	9	8	7	20	19	18	17	16	15	14	27	26	25	24	23	22	21					30	29	28	<table border="1"> <tr><td>2</td><td>1</td><td></td><td></td><td></td><td></td><td>31</td></tr> <tr><td>9</td><td>8</td><td>7</td><td>6</td><td>5</td><td>4</td><td>3</td></tr> <tr><td>16</td><td>15</td><td>14</td><td>13</td><td>12</td><td>11</td><td>10</td></tr> <tr><td>23</td><td>22</td><td>21</td><td>20</td><td>19</td><td>18</td><td>17</td></tr> <tr><td>30</td><td>29</td><td>28</td><td>27</td><td>26</td><td>25</td><td>24</td></tr> </table>	2	1					31	9	8	7	6	5	4	3	16	15	14	13	12	11	10	23	22	21	20	19	18	17	30	29	28	27	26	25	24
4	3	2	1																																																																																																								
11	10	9	8	7	6	5																																																																																																					
18	17	16	15	14	13	12																																																																																																					
25	24	23	22	21	20	19																																																																																																					
		31	30	29	28	27																																																																																																					
6	5	4	3	2	1																																																																																																						
13	12	11	10	9	8	7																																																																																																					
20	19	18	17	16	15	14																																																																																																					
27	26	25	24	23	22	21																																																																																																					
				30	29	28																																																																																																					
2	1					31																																																																																																					
9	8	7	6	5	4	3																																																																																																					
16	15	14	13	12	11	10																																																																																																					
23	22	21	20	19	18	17																																																																																																					
30	29	28	27	26	25	24																																																																																																					

التقويم الميلادي

ايها المعلم الفاضل:

وضح للتلاميذ من جاء التقويم الميلادي.

تدريب:

الاسبوع سبعة ايام ، اكتب اسماء بقية الايام في الفراغات:

السبت ، ، ، الثلاثاء ، ، ، الجمعة.

اسماء اشهر السنة الميلادية

حزيران	آيار	نيسان	آذار	شباط	كانون الثاني
كانون الاول	تشرين الثاني	تشرين الاول	ايلول	آب	تموز

تدريب:

- ١ - في اي شهر تفتح المدارس ابوابها؟
- ٢ - متى تبدأ العطلة المدرسية الشتوية للمدارس؟
- ٣ - هل تعرف اليوم الذي يعرف (يوم الطفل) وفي اي شهر؟.
- ٤ - ماهو اليوم الذي حدد للأحتفال به كيوم البيئة في كوردستان ولماذا حدد هذا اليوم؟.

يوم شهداء الجامعة

تقديرًا لضحايا القصف الجوي لجامعة السليمانية في قلعة دزة عام ١٩٧٤ من قبل النظام البعثي البائد. تم تسمية يوم ٢٤ نيسان من كل عام بيوم شهداء الجامعة في اقليم كوردستان .
في يوم ٢٤ نيسان عام ١٩٧٤ قامت طائرات النظام بقصف مدينة قلعة دزة بقنابل النابالم المحرمة دولياً، وكانت حصيلة هذا القصف الوحشي (١٦٣) شهيدا من بين الطلاب الجامعة بأضافة الى النساء و الاطفال والشيوخ و اصابة اكثر من (٢٥٠) مواطن آخر كما تم تدمير أجزاء من المدينة .



صورة مدرسة



العلمة ترحب بالتلاميذ

معلومة:

- ١ - تحتسب بداية التقويم الميلادي من ولادة سيدنا عيسى (عليه السلام)، والسنة الميلادية ١٢ شهراً، وعدد ايامها ٣٦٥ يوماً و ست ساعات و كل اربع سنوات تصبح ٣٦٦ يوماً و تسمى بالسنة الكبيسة.
- ٢ - في آذار سنة ١٩٩١ انتفض شعب كردستان ضد النظام العراقي، وبذلك تحررت غالبية مناطق كردستان من قبضة النظام الوحشي.

التقويم الكوردي

هذا التقويم خاص بتاريخ شعبنا في كردستان، وتعود بدايته الى ٧٠٠ سنة قبل الميلاد، وهي بداية تاسيس دولة ماد الكوردية(ميديا).

معلومة:

الماديون هم اجداد الكورد وعاشوا في هذه المنطقة منذ ٥٠٠٠ سنة قبل الميلاد، واسسوا دولاً وحضارات وكانت عاصمتهم (اكباتانا) همدان، وفي سنة ٥٥٠ قبل الميلاد سقطت دولتهم على يد الاخمينيين بقيادة ملكهم كورش.



صورة تحفة فنية تعود الى حضارة الماديين

ايها المعلم الفاضل:

وضح هذه المعلومات للتلاميذ:
لمعرفة سنة التقويم الكوردي نضيف ٧٠٠ الى السنة الميلادية، فلمعرفة السنة الكوردية
المصادفة للسنة الميلادية ٢٠١١ نقوم بهذه العملية:
 ٢٠١١ (السنة الميلادية) + ٧٠٠ = السنة الكوردية ٢٧١١

معلومة:

اليوم الاول من السنة الكوردية يصادف يوم ٢١ آذار من السنة الميلادية، وهو اليوم الاول
من نوروز، الذي يحمل بشائر الربيع وانتهاء الشتاء موسم البرد والصقيع.



الاشهر الكوردية

اشهر السنة الكوردية، هي:

خه لايوژ	خه رمانان	پوشپهڤ	جوژهردان	گولان	خاكه ليوه نهوژوژ
ره شه مي	ريبه ندان	به فرانبار	سه رماوهرز	گه لاريژان	ره زبه ر

تدريب:

املا الفراغات التالية:

		پوشپهڤ			خاكه ليوه
ره شه مي		به فرانبار			



مانگه کانی کوردی

جۆزهردان 2709

شهمه	پات شهمه	دوو شهمه	سێ شهمه	چوار شهمه	پنج شهمه	ههین
30	31					1
2	3	4	5	6	7	8
9	10	11	12	13	14	15
16	17	18	19	20	21	22
23	24	25	26	27	28	29

گولان (بانهمهر) 2709

شهمه	پات شهمه	دوو شهمه	سێ شهمه	چوار شهمه	پنج شهمه	ههین
				1	2	3
4	5	6	7	8	9	10
11	12	13	14	15	16	17
18	19	20	21	22	23	24
25	26	27	28	29	30	31

نهوڕۆژ (خاکهانیو) 2709

شهمه	پات شهمه	دوو شهمه	سێ شهمه	چوار شهمه	پنج شهمه	ههین
1	2	3	4	5	6	7
8	9	10	11	12	13	14
15	16	17	18	19	20	21
22	23	24	25	26	27	28
29	30	31				

کهلاوێژ 2709

شهمه	پات شهمه	دوو شهمه	سێ شهمه	چوار شهمه	پنج شهمه	ههین
						6
7	8	9	10	11	12	13
14	15	16	17	18	19	20
21	22	23	24	25	26	27
28	29	30	31			

خهرمانان 2709

شهمه	پات شهمه	دوو شهمه	سێ شهمه	چوار شهمه	پنج شهمه	ههین
31						2
3	4	5	6	7	8	9
10	11	12	13	14	15	16
17	18	19	20	21	22	23
24	25	26	27	28	29	30

پوشههر 2709

شهمه	پات شهمه	دوو شهمه	سێ شهمه	چوار شهمه	پنج شهمه	ههین
						5
6	7	8	9	10	11	12
13	14	15	16	17	18	19
20	21	22	23	24	25	26
27	28	29	30	31		

سههر ماوهز 2709

شهمه	پات شهمه	دوو شهمه	سێ شهمه	چوار شهمه	پنج شهمه	ههین
						5
6	7	8	9	10	11	12
13	14	15	16	17	18	19
20	21	22	23	24	25	26
27	28	29	30			

کهلازیزان (خهزهدوهر) 2709

شهمه	پات شهمه	دوو شهمه	سێ شهمه	چوار شهمه	پنج شهمه	ههین
1	2	3	4	5	6	7
8	9	10	11	12	13	14
15	16	17	18	19	20	21
22	23	24	25	26	27	28
29	30					

رهزیههر 2709

شهمه	پات شهمه	دوو شهمه	سێ شهمه	چوار شهمه	پنج شهمه	ههین
						3
4	5	6	7	8	9	10
11	12	13	14	15	16	17
18	19	20	21	22	23	24
25	26	27	28	29	30	

رهشهمن 2709

شهمه	پات شهمه	دوو شهمه	سێ شهمه	چوار شهمه	پنج شهمه	ههین
						6
7	8	9	10	11	12	13
14	15	16	17	18	19	20
21	22	23	24	25	26	27
28	29	30				

رێبهندان 2709

شهمه	پات شهمه	دوو شهمه	سێ شهمه	چوار شهمه	پنج شهمه	ههین
30						1
2	3	4	5	6	7	8
9	10	11	12	13	14	15
16	17	18	19	20	21	22
23	24	25	26	27	28	29

بهقرابههر 2709

شهمه	پات شهمه	دوو شهمه	سێ شهمه	چوار شهمه	پنج شهمه	ههین
						3
4	5	6	7	8	9	10
11	12	13	14	15	16	17
18	19	20	21	22	23	24
25	26	27	28	29	30	

التقويم الكوردي

نشاط:

حدد اسعد يوم واتعس يوم خلال السنة الكوردية، حدثك عنه او شهدهته بنفسك، فأثر فيك، تحدث لاصدقائك عنه.



مشهد للهجرة المليونية عام ١٩٩١

تدريب:

في يوم الهجرة المليونية لشعبنا الكوردي في آذار عام ١٩٩١ ، ترك سكان كردستان وراءهم بيوتهم واموالهم متجهين نحو مصيرهم المجهول كي لا يرضخ لنظام دكتاتوري.
- ماذا كانت مكاسب تلك المسيرة المليونية لشعب كردستان؟.

معلومة:

في (١٤ نيسان ١٩٨٨) تم تدمير أربعة من مراكز النواحي. وتم تسفير حوالي (٢٠) الفاً من النساء والرجال والاطفال الى معسكرات الابداءة خلال يوم واحد فقط. لذا تم اعتبار هذا اليوم من كل عام يوماً لاستذكار جريمة الانفال الكبرى في كردستان.

التقويم الهجري

هذا التقويم، تقويم اسلامي يبدأ من يوم هجرة الرسول (صلى الله عليه وسلم) من مكة الى المدينة (يثرب) ، بهدف نشر الدين الاسلامي والتخلص من ظلم واضطهاد القريشيين في



مدينة مكة، وقد اعتمد هذا التقويم في عهد عمر بن الخطاب (رضي الله عنه).

صورة مدينة مكة

اشهر السنة الهجرية:

محرم	صفر	ربيع الاول	ربيع الثاني	جمادى الاولى	جمادى الثانية
رجب	شعبان	رمضان	شوال	ذو القعدة	ذو الحجة

تدريب:

١ - متى يصادف اليوم الاول للصوم؟

٢ - حدد عدده مناسبات دينيه؟

أشهر السنة الهجرية

3 ربيع الاول

الجمعة	الخميس	الاربعاء	الثلاثاء	الاثنين	الاحد	الجمعة
						2
9	8	7	6	5	4	3
16	15	14	13	12	11	10
23	22	21	20	19	18	17
30	29	28	27	26	25	24

2 صفر

الجمعة	الخميس	الاربعاء	الثلاثاء	الاثنين	الاحد	الجمعة
						4
11	10	9	8	7	6	5
18	17	16	15	14	13	12
25	24	23	22	21	20	19
	30	29	28	27	26	

1 محرم

الجمعة	الخميس	الاربعاء	الثلاثاء	الاثنين	الاحد	الجمعة
						5
13	12	11	10	9	8	7
20	19	18	17	16	15	14
27	26	25	24	23	22	21
	30	29	28			

6 جمادي الثاني

الجمعة	الخميس	الاربعاء	الثلاثاء	الاثنين	الاحد	الجمعة
						5
12	11	10	9	8	7	6
19	18	17	16	15	14	13
26	25	24	23	22	21	20
	30	29	28	27		

5 جمادي الاول

الجمعة	الخميس	الاربعاء	الثلاثاء	الاثنين	الاحد	الجمعة
						6
13	12	11	10	9	8	7
20	19	18	17	16	15	14
27	26	25	24	23	22	21
					29	28

4 ربيع الثاني

الجمعة	الخميس	الاربعاء	الثلاثاء	الاثنين	الاحد	الجمعة
						7
14	13	12	11	10	9	8
21	20	19	18	17	16	15
28	27	26	25	24	23	22
						29

9 رمضان

الجمعة	الخميس	الاربعاء	الثلاثاء	الاثنين	الاحد	الجمعة
						7
14	13	12	11	10	9	8
21	20	19	18	17	16	15
28	27	26	25	24	23	22
						29

8 شعبان

الجمعة	الخميس	الاربعاء	الثلاثاء	الاثنين	الاحد	الجمعة
						2
9	8	7	6	5	4	3
16	15	14	13	12	11	10
23	22	21	20	19	18	17
30	29	28	27	26	25	24

7 رجب

الجمعة	الخميس	الاربعاء	الثلاثاء	الاثنين	الاحد	الجمعة
						3
10	9	8	7	6	5	4
17	16	15	14	13	12	11
24	23	22	21	20	19	18
		29	28	27	26	25

12 ذي الحجة

الجمعة	الخميس	الاربعاء	الثلاثاء	الاثنين	الاحد	الجمعة
						2
9	8	7	6	5	4	3
16	15	14	13	12	11	10
23	22	21	20	19	18	17
30	29	28	27	26	25	24

11 ذي القعدة

الجمعة	الخميس	الاربعاء	الثلاثاء	الاثنين	الاحد	الجمعة
						4
11	10	9	8	7	6	5
18	17	16	15	14	13	12
25	24	23	22	21	20	19
	30	29	28	27	26	

10 شوال

الجمعة	الخميس	الاربعاء	الثلاثاء	الاثنين	الاحد	الجمعة
						6
13	12	11	10	9	8	7
20	19	18	17	16	15	14
27	26	25	24	23	22	21
					30	29

اشهر التقويم الهجري

نشاط:

اكتب اسماو اربعة اشهر هجريه في الفراغات التاليه:

	محرم	صفر	ربيع الثاني	جمادى الاولى	
			شوال	ذو القعدة	ذو الحجة



الجزء الثاني

مدن كوردستان العريقة

كوردستان بلد عريق، و تقع على ارضه عدة مدن تاريخية.

اربيل

مدينة كوردستانية عريقة تقع في سهل واسع، ورد اسمها لأول مرة في التاريخ في مدونات ملك سومري في حدود (٢٠٠٠) سنة قبل الميلاد باسم (اوربيلم) ، يعود تأريخ حضارة هذه المدينة الى (٦٠٠٠) سنة قبل الميلاد، وقد شهدت احداث تاريخية عظيمة، ونبغ فيها العديد من رجالات التاريخ، الذين خدموا الحضارة والانسانية وحاليا عاصمة اقليم كوردستان.



قلعة اربيل

معلومة:

في سنة (٣٣١) قبل الميلاد انتصر ملك المقدونيين (اسكندر الكبير) على (داريوش) ملك الأخمينيين قرب اربيل في معركة (گوگاميل) (اربيل).



صورة منارة المظفرية (جولى) في مدينة اربيل

كركوك

مدينة كوردستانية عريقة بنيت على قلعة، ورد اسمها في التاريخ القديم باسم (آرابخا)، وقد ورد هذا الاسم لأول مرة في عهد الملك البابلي همورابي، وكانت لفترة طويلة عاصمة للكتيين.



صورة قلعة كركوك

معلومة:

كانت لكركوك منذ القدم والى الان اهمية كبيرة، لانها كانت دوماً مركزاً حضارياً مهماً، لذلك تعرضت لحمولات الاعداء الوحشية، وتعرض سكانها و غالبيتهم من الكورد، الى الترحيل والتهجير والابعاد والتعريب وحمولات الانفال.

نشاط:

ايها المعلم الفاضل:
بالامكان ترتيب نشاط للتلاميذ حول واقع كركوك الحالي.

معلومة:

كركوك غنية بالنفط.

السليمانية

كانت عاصمة لامارة بابان، وهي من مدن كوردستان الكبيرة وتعد مركزاً ثقافياً وادارياً مهماً. ظهر فيها نخبة من الشعراء والمشاهير.



مشهد من مدينة السليمانية

معلومة:

بنيت مدينة السليمانية سنة ١٧٨٤ م من قبل (ابراهيم باشا بابان)، وكانت عاصمة الحكومة في عهد الملك محمود بداية القرن العشرين.

تدريب:

- ١ - بعد اية مدينة اصبحت السليمانية عاصمة لامارة بابان؟
- ٢ - اذكر اسماء عدد من الشعراء والمثقفين من ابناء السليمانية لاصدقائك؟

العمادية

من المدن الكوردستانية العريقة، وتقع على مرتفع عال، وكانت لفترة طويلة من الزمن عاصمة لامارة بادينان.



مشهد لمدينة العمادية

معلومة:

هناك عدة مواقع اثرية في مدينة العمادية، مثل: بوابة المدينة، الجوامع والمدارس الدينية.

حلبجة

تقع في مركز سهل شهرزور، تعرضت للقصف بالاسلحة الكيماوية يوم (١٦/٣/١٩٨٨) من قبل النظام البعثي، واستشهد فيها اكثر من (٥٠٠٠) شخص واصيب اكثر من (١٥٠٠٠) شخص بجروح نتيجة ذلك القصف الوحشي، ودمرت المدينة.



مشهد لمدينة حلبجة اثناء القصف الكيماوي

معلومة:

تقديرا لارواح ضحايا القصف الكيماوي من قبل النظام البائد قررت رئاسة إقليم كردستان العراق في حزيران ٢٠١٣ بتحويل مدينة حلبجة الى محافظة.

تدريب:

ما هي آثار القصف الكيماوي على حلبجة؟
عبر عن ذلك بقطعة انشائية بعد مناقشة ذلك مع اصدقائك.

معلومة:


القتل الجماعي للكورد، واستخدام الاسلحة الكيماوية اخطورة ضدهم، كان من الجرائم التي ارتكبتها النظام البعثي، واصبحت لطخة عارٍ على جبين محتلي كردستان. حيث ينجل التاريخ من ذكرها.

رواندوز

كانت قلعة وعاصمة امارة سوران ، وخاصة في عهد الامير محمد باشا الكبير . تعرضت هذه المدينة الى الكثير من الويلات والمصائب، مثل هجمات الجيشين الروسي والعثماني على المنطقة. وتعد طريقاً استراتيجياً للقوافل التجارية وغيرها، والذي كان سبباً في تطورها وازدهارها.



مدفع الأسطى رجب (رواندوز)



صورة لوادي رواندوز

معلومة:

ان موقع رواندوز عال وصعب الارتقاء، لذلك لم يتمكن الاعداء من السيطرة عليها بسهولة، ولهذا السبب ايضاً اتخذت عاصمة لامارة سوران.

زاخو



مدينة زاخو

مدينة تاريخية في منطقة بادينان، وكانت مركزاً تجارياً مهماً، وكانت طريقاً رئيسية للجيش الغازية في المراحل التاريخية المختلفة.



جسر دلال في زاخو

معلومة:

من المواقع التاريخية الشاخصة في زاخو جسر دلال التاريخي.

نشاط:

مدينة زاخو بوابة مهمة للتجارة في اقليم كردستان مع تركيا، وهي معبر بين الاقليم واوروبا.

الجزء الثالث




المواقع الاثرية في كردستان

كهف شاندر

من الكهوف القديمة، التي عاش فيها الانسان في مراحل ما قبل التاريخ، والذي عرف بانسان (النياندرتال). يقع هذا الكهف في منطقة برادوست من محافظة اربيل.



كهف شاندر



انسان النياندرتال

تدريب:

في اي عصر عاش الانسان في الكهوف؟

كهف هزار ميرد

يقع في جبل برانان ويبعد ١٣ كيلومتراً جنوب غرب مدينة السليمانية، ويعود تأريخه الى اقدم



كهف هزار ميرد

قرية جرمو

تقع قرية (جرمو) على تلة صغيرة بارتفاع (٢٣ قدم) شرق مدينة جمجمال في محافظة كركوك، وتعتبر من اقدم المراكز التي سكنها الانسان بعد مرحلة العيش في الكهوف، وقد قام سكانها لأول مرة في التاريخ بمزاولة الزراعة وتربية الحيوانات. توجد فيها دلائل على بقايا الانسان وأدواته مثل (الفأس، المنجل، المذرى، الرحي "لطحن وجرش الحبوب"). يتوقع بأن الطبقات العشرة الأولى من التلة يعود تأريخها الى العصر الحجري القديم. استعملت النساء الحلي المصنوعة من الطين والاساور من المرمر للزينة، كما دفنوا موتاهم تحت البيوت. يعود تاريخ قرية (جرمو) الى (٦٥٠٠) سنة قبل الميلاد.



من آثار قرية جرمو

مدينة جمجمال

تدريب:

في اية منطقة عاش الانسان واستقر لأول مرة في كوردستان؟

نشاط:

ايها المعلم الفاضل: وضح باختصار بعض المعلومات عن قرية (جرمو) لتلاميذك.

المتحف



متحف اربيل

مكان خاص باقتناء وحفظ القطع الاثرية لشعوب الارض، وبسببه تتم المحافظة على آثار الشعوب التاريخية. من المتاحف المعروفة في العالم: (متحف لندن، متحف اللوفر في فرنسا، متحف برلين في المانيا، متحف القاهرة في مصر، ومتحف بغداد).

نشاط:

بأماكن المعلم اصطحاب طلبتة لزيارة متحف المدينة إن وجد، أو عرض صور لأماكن الأثرية في كوردستان.

متحف اربيل

يقع متحف اربيل في الموقع الأثري المعروف (تلة قاليچ آغا) ويضم عدداً من التماثيل والآثار التاريخية لهذه المنطقة، وابوابه مفتوحة للزائرين.



متحف

متحف السليمانية

يوجد في مدينة السليمانية متحف يضم تحفاً وآثاراً تاريخية للمنطقة، وتعد ثروة قومية لشعبنا.



متحف السليمانية



المواطنة

الجزء الاول

الأسرة

الأسرة: - تتكون من عدد من الاشخاص يعيشون في بيت معاً، وتربطهم رابطة الدم.



صورة لاسرة

هناك نوعان من الاسر:

الاسرة الصغيرة: وتتألف من الابوين والاولاد.

الاسرة الكبيرة: وتتألف من الجد والجدة والابوين والاولاد، اي مكوناتها اكثر من الاسرة الصغيرة، وتربطهم العلاقات الاجتماعية ورابطة الدم.

تدريب:

- من اي النوعين هي اسرتك؟
- كم عدد افراد اسرتك؟
- من هم الذين تتألف منهم اسرتك؟

الأم

تهتم بشؤون المنزل اليومية، فتطبخ وتعد الطعام، وتغسل الملابس، وتنظف البيت، وبالإضافة الى اداء واجباتهن المنزلية، هناك امهات تعملن خارج المنزل كموظفات او معلمات او طبيبات او مهندسات... الخ، ومن اقدس واجبات الام بالاضافة الى كل ما سبق تربية الاطفال.

نظراً لكل ما ذكرنا يجب ان تقدر الام كثيراً، وان تمد لها يد المساعدة يومياً، لكي نخفف من العبء على عاتقها، وان لا نزعجها لان للام حقوقاً كثيرة على اولادها، خاصة بعد ان تكبر في السن او عندما تعجز، فيجب على الابناء والبنات الا ينسوا جهودها التي بذلتها في تربيتهم.

الأب

ينشغل بالعمل خارج البيت ، ويوفر الحاجات الضرورية للحياة لاسرته، عن طريق الاعمال الحرة او الوظيفة، لذلك على كل فردٍ منا مساعدة والده واسعاده، فالاب وبالإضافة الى انشغاله بالعمل خارج البيت لتوفير قوت اسرته اليومي، يهتم بارشاد اسرته واسداء النصح اليهم، فيعلمهم حب الوطن والصدق والامانة، لكي يصبحوا في المستقبل اناساً اوفياء مخلصين لوطنهم، وعناصر مفيدة للمجتمع.

البنات

عليهن مساعدة الام في اعمال البيت، بعد اداء الواجبات المدرسية.

الاولاد

عليهم مساعدة الآباء، بعد اداء الواجبات المدرسية.

الجدّة

تقوم برعاية الاطفال الصغار ومساعدة امهم في تربيتهم، وتروي لهم في الامسيات القصص اللطيفة حتى تساعدهم على النوم.

الجد

طعن في السن وشهد الكثير من الاحداث السعيدة والمخزنة، واكتسب خبرة في الحياة، لذلك يسدي النصح للجميع، لكي لا يرتكبوا الاخطاء، ويعلمهم الصدق والامانة ومد يد العون للفقراء والمنكوبين، وحب الوطن وابنائهم.

نشاط:

تألف الاسرة من الام و _____ و _____ و _____ و _____ .

تدريب:

ضع علامة (✓) او علامة (X) امام العبارات التالية:

- ١ - يجب ان يكون افراد الاسرة متحابين () .
- ٢ - واجب الام مقدس () .
- ٣ - الكبير لا يساعد الصغير () .
- ٤ - قال الجد: تعاونوا فيما بينكم داخل الاسرة () .

اختر الجواب الملائم من الطائفة ب لتصوغ الجمل الصحيحة :

ب	أ
١ - بالذهاب الى السوق ليساعد والده.	١ - في كل مساء تقوم جدة
٢ - بمساعدة والدتها في اعمال المنزل .	٢ - يقوم سوران بعد الاكل والاستراحة
٣ - لم يكن ينسى ارشاد ابنائه.	٣ - تقوم آميز بعد عودتها من المدرسة
٤ - برواية قصة لطيفة للاطفال.	٤ - رغم انشغال والدهم ببيع الورد



الجد و أحفاده



الجزء الثاني

حسن الجوار

ان البيوت التي تحيط ببيتنا في الحي الذي نساكنه هي بيوت جيراننا، وللساكنين فيها عيشون في تلك البيوت حقوق كثيرة علينا، لذلك علينا احترامهم، وان نحافظ على ممتلكاتهم من اللصوص والاشرار، وان نجعلهم يشعرون دوماً بالفرح والسرور، لا العكس، مطمئنين على ممتلكاتهم عند مغادرتهم بيوتهم، وان لانرفع اصواتنا عند اللعب، وان لانزعجهم برفع صوت المذياع او التلفاز ومكبرات الصوت، كما يجب ان لاندخل بيوتهم دون استئذان، ونشاركهم الافراح والاحزان.

علينا ان ننصح اخواننا واخواتنا الصغار ونرشدهم بان الجيران احباؤنا، وان نتمنى لهم كل ما نتمناه من خير لانفسنا.

نشاط:

ايها المعلم الفاضل: اطلب من تلاميذك ان يتحدثوا عن جيرانهم.

تدريب:

ضع علامة (✓) امام الخلق الحسن، وعلامة (X) امام الخلق السيء:

الخلق	الخلق
احترم الكبير	لا أساعد المعاقين
لا اغسل يدي بعد الاكل	أَلعبُ على الشارع
أُؤدي واجباتي	احافظ على الهدوء لاسعاد جاري
احب النظافة	لا ادخل بيت جاري دون استئذان

الجزء الثالث

المحافظة على نظافة بيئة المدرسة



للمحافظة على نظافة صفي استمع الى نصائح معلمي، بوضع فضلات الطعام وكل شيءٍ لأحجاجة في سلة المهملات، وعندما أبري القلم أضع الفضلات في السلة، ولألقي بها على ارض المدرسة.

لأكتب او أمسح يدي بجدران الصف، وأحافظ على نظافة بيئة مدرستي.

يجب ان ننصح اصدقاءنا ايضاً بالمحافظة على نظافة غرف الصف وساحة المدرسة، وكذلك الشوارع، واذا راينا اية فضلات او مهملات فنقوم بوضعها في المكان المخصص للفضلات، فالصف النظيف يدل على وجود التلميذ

الخلق والنظيف فيه، والبيئة النظيفة انعكاس لخلق التلميذ الحسن وتربيته الحسنة.

نشاط:

ايها المعلم الفاضل: شكل مجموعتين من التلاميذ، لاداء هذا النشاط-الاستئلة والاجوبة:

١ - اذكر اربعة اسباب لتلوث البيئة.

٢ - ان تلوث البيئة يؤثر علينا من ثلاثة اوجه، هي: (الهواء، الماء، والتربة).



نشاط:

ايها المعلم الفاضل اسأل التلاميذ، كيف يحافظون على بيئة المدرسة؟





الجزء الرابع

مساعدة كبار السن و ذوي الاحتياجات الخاصة

عندما يتقدم الانسان في العمر، فانه يشيخ وتقل قدرته على العمل. وكل انسان كان في يومٍ من الايام قوياً وعمل على تربية مجموعة، لكن كل انسان عندما يطعن في السن يفقد قوته ويمسي بحاجة الى مد يد العون اليه والتخفيف عنه. نحن الاولاد بنات وابناء واحفاد اولئك النساء و الرجال، لذا يجب ان نرعاهم ونحترمهم، وننفذ طلباتهم دون تاخير، فهذا عمل انساني من جهة، ومن جهة اخرى يجب ان نضع نصب اعيننا اننا سيأتي يوم نكون فيه مثلهم نحتاج الرعاية والاهتمام. وكذلك ذوي الاحتياجات الخاصة سواء من كان منهم ضريباً او اعرجاً او اکتعاً، علينا ان نساعدهم، لان ذلك واجب انساني. فعندما نرى شخصاً ضريباً يريد العبور من الشارع، علينا ان نسرع ونأخذ بيده حتى يعبر الشارع.

ايها التلميذ العزيز:

اذا كنت قد ساعدت شخصاً ضريباً او معاقاً في يوم ما، فحدث اصدقاءك عن ذلك، ليقتدوا بك.

ايها المعلم الفاضل:

هناك الكثيرون ممن خدموا الانسانية كانوا من ذوي الاحتياجات الخاصة، اذكر اسماء بعضهم لتلاميذك كي يعرفوهم.

نشاط:

العوق ليس عاراً فجمال الانسان بعقله وخلقه لا بشكله.

الجزء الخامس

الخلق الحسن

ان احترام المعلم واداء الواجبات المدرسية، والحفاظة على الكتب واللوازم المدرسية، واحترام الوالدين ومن هم اكبر سنناً منا.
والالتزام بقواعد المرور، والحفاظة على نظافة البيت والشارع، والاخلاص للوطن والشعب ،
والحفاظة على البيئة، هذه وغيرها كثيرة هي الاخلاق الحسنة للتلميذ الخلق.
بالخلق الحسن يبنى البلد الحر والمجتمع المتطور.

نشاط:

ايها المعلم الفاضل: اطلب من مجموعة من التلاميذ اعداد نشرة جدارية عن الخلق الحسن لصفهم.



اللعاب الجماعى



من الاخلاق الحسنة الاخرى ان يحترم التلميذ زملاءه واذا وجد شيئاً يعيده لصاحبه، واذا لم يعرفه يسلمه للمعلم.
وبعد الاستئذان من الوالدين يلعب في مكان خاص للعب، ولا يذهب للعب في الشارع مما يتسبب في ازعاج الجيران.

ايها المعلم الفاضل:

- ١ - اسال التلاميذ كيف يحافظون على كتبهم؟
- ٢ - اطلب من التلاميذ ان يذكروا بعض الاخلاق الحسنة غير التي ذكرناها سلفاً.

الفهرست

الجغرافية

رقم الصفحة	الموضوع
١٦ - ٣	الجزء الاول: الارض
٢٧ - ١٧	الجزء الثاني: مصادر المياه
٣٣ - ٢٨	الجزء الثالث: فصول السنة
٤٠ - ٣٤	الجزء الرابع: السكان

التاريخ

رقم الصفحة	الموضوع
٥٣ - ٤٣	الجزء الاول: التقويم
٦٣ - ٥٦	الجزء الثاني: المدن العريقة في كردستان
٧١ - ٦٦	الجزء الثالث: المواقع الاثرية في كردستان

المواطنة

رقم الصفحة	الموضوع
٧٧ - ٧٢	الجزء الاول: الاسرة
٨٠	الجزء الثاني: حسن الجوار
٨٣ - ٨٢	الجزء الثالث: بيئة المدرسة
٨٦	الجزء الرابع: مساعدة كبار السن و ذوي الاحتياجات الخاصة
٨٩ - ٨٨	الجزء الخامس: الخلق الحسن
٩٠	الفهرست

A large white rectangular area with a thin orange border, containing 20 sets of horizontal dotted lines for handwriting practice. Each set consists of a solid top line, a dotted middle line, and a solid bottom line, providing a guide for letter height and placement.

A large white rectangular area with a thin orange border, containing 20 sets of horizontal dotted lines for handwriting practice. Each set consists of a solid top line, a dotted middle line, and a solid bottom line, providing a guide for letter height and placement.